
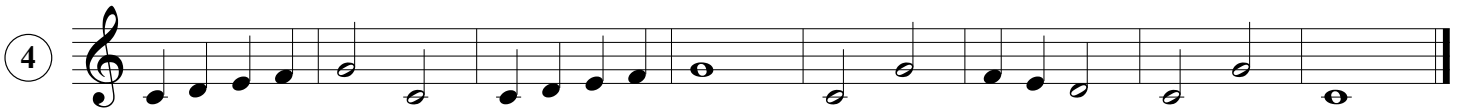



**Solfejos:**



**Intervalos de segunda, terça, quarta e quinta**



- ⑤ **Indique os intervalos e classifique como ascendente (movimento de baixo para cima) ou descendente (movimento de cima para baixo)**

